

ПРИГЛАСИТЕЛЬНЫЙ ШКОЛЬНЫЙ ЭТАП
ВСЕРОССИЙСКОЙ ОЛИМПИАДЫ ШКОЛЬНИКОВ
ИСТОРИЯ. 2020 г. 8 класс

В заданиях 1–3 дайте один верный ответ.

1. Прочитайте отрывок из исторического источника и укажите исторического деятеля, о котором идёт речь в отрывке.

«Телом жена сущи, мужеску мудрость имеюще, просвещена Святым Духом, вразумевше бога истиннаго, творца небу и земли, воставши от прелести идольския, иде в землю Греческую, в Царствующи град, взыскати веры Христовы, идеже цари християнстии и християнство утвердися...»

- 1) Княгиня Ольга
- 2) Ингигерда
- 3) Софья Витовтовна
- 4) Софья Палеолог

2. Прочитайте отрывок из исторического источника и укажите век, когда произошли события истории России, описанные в отрывке.

«Взыде на его место и на его степень некоторый архимандрит, именем Михаил, нарицаемый Митяй, не знаемый здесь, облечеса в сан митрополич и возложи на ся белый клобук <...>. Бе бо преже князь великий Дмитрий Иванович просил того у Алексея митрополита, дабы благословил прежереченнаго Митяя на митрополью...»

- 1) XII в.
- 2) XIII в.
- 3) XIV в.
- 4) XV в.

3. Ниже приведён список названий городов. Укажите тот из них, который НЕ входил в состав Русского государства в XVII веке.

- 1) Киев
- 2) Смоленск
- 3) Минск
- 4) Псков

В заданиях 4 и 5 выберите несколько верных ответов из предложенных.

4. Ниже приведён список названий государств. Укажите те государства, которые существовали в Европе к началу XVII века.

- 1) Республика Соединённых провинций
- 2) Северо-американские Соединённые Штаты
- 3) Англия
- 4) Венецианская республика
- 5) Австро-Венгрия
- 6) Сербское княжество

5. Какие понятия из перечисленных связаны с Великой Французской революцией?

- 1) «Марсельеза»
- 2) «Интернационал»
- 3) якобинцы
- 4) Славная революция
- 5) Жиронда
- 6) табориты

6-7. Выберите из приведённых ниже вариантов краткое обоснование логического ряда (то, что объединяет перечисленные элементы с исторической точки зрения).

- А) Д.Г. Левицкий Б) Ф.С. Рокотов В) А.П. Антропов
Г) И.П. Аргунов Д) С.Ф. Ушаков.

Варианты обоснования:

- 1) русские художники XVIII века
- 2) современники царя Алексея Михайловича
- 3) русские иконописцы XVII века
- 4) мастера скульптурного портрета XVIII века

7. Укажите, какой из элементов является лишним по выбранному вами основанию.

8-9. Выберите из приведённых ниже вариантов краткое обоснование логического ряда (то, что объединяет перечисленные элементы с исторической точки зрения).

- А) 860 Б) 962 В) 907 Г) 941

Варианты обоснования:

- 1) годы военных походов на печенегов
- 2) годы военных походов на половцев
- 3) годы военных походов на Византию
- 4) смена представителей династии Рюриковичей на княжении в Киеве

9. Укажите, какой из элементов является лишним по выбранному вами основанию.

10. Выберите из приведённых ниже вариантов краткое обоснование логического ряда (то, что объединяет перечисленные элементы с исторической точки зрения).

А) Куна Б) Ногата В) Резана Г) Гривна Д) Векша.

Варианты обоснования:

- 1) денежные единицы Древней Руси
- 2) категории зависимого населения Древней Руси
- 3) денежные единицы Византии
- 4) древнерусские меры длины
- 5) древнерусские меры веса

11. Выберите из приведённых ниже вариантов краткое обоснование логического ряда (то, что объединяет перечисленные элементы с исторической точки зрения).

А) Екатеринбург Б) Нижний Тагил В) Петрозаводск
Г) Лодейное Поле.

Варианты обоснования:

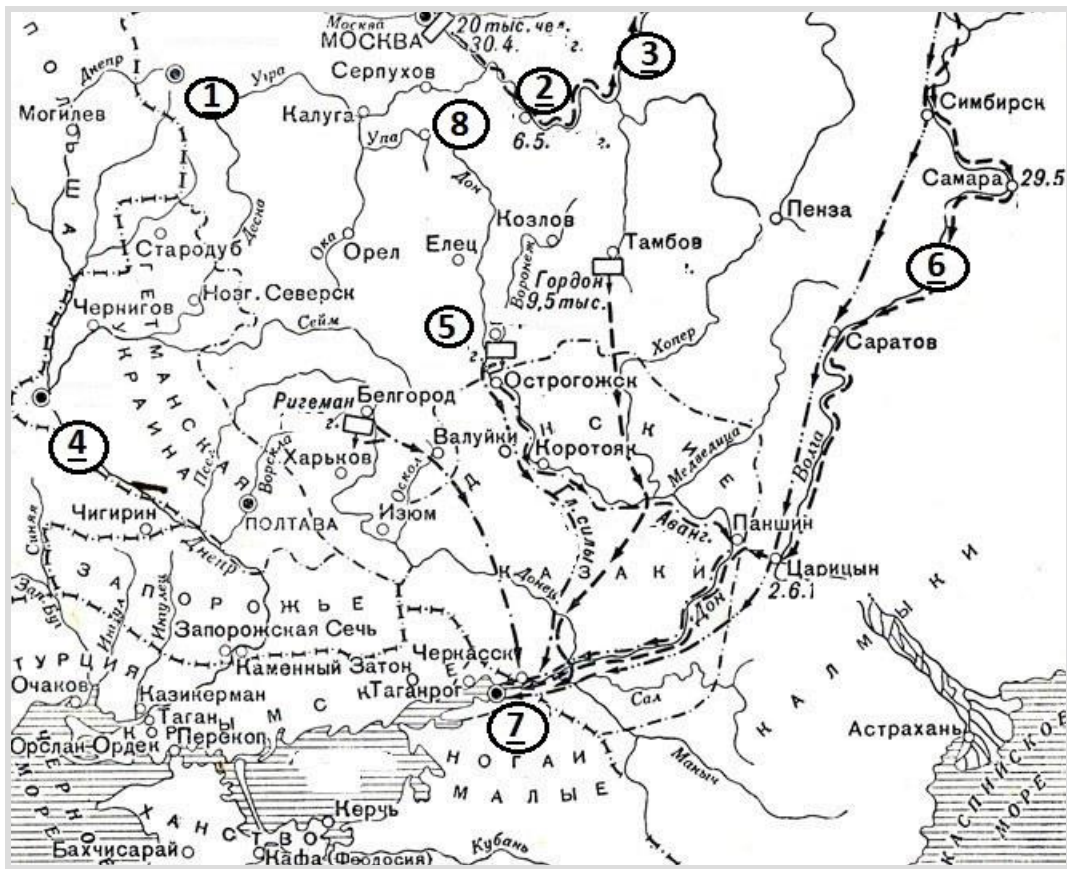
- 1) крупнейшие горнозаводские центры Урала
- 2) города, включённые в состав Российского государства после похода Ермака Тимофеевича
- 3) города, основанные в правление Петра I
- 4) города, основанные в правление Екатерины I
- 5) города, основанные в правление Екатерины II

12. Установите соответствие между событиями, произошедшими в одном и том же веке в отечественной и всеобщей истории.

**СОБЫТИЯ (ПРОЦЕССЫ)
ОТЕЧЕСТВЕННОЙ ИСТОРИИ**
Великое посольство Петра Первого
поединок Пересвета и Челубея
восстание под предводительством
Е.И. Пугачёва
учреждение опричнины

**СОБЫТИЯ (ПРОЦЕССЫ)
ВСЕОБЩЕЙ ИСТОРИИ**
казнь Людовика XVI
заключение Аугсбургского
религиозного мира
начало Столетней войны
окончание Тридцатилетней войны
окончание Реконквисты

13-26. Рассмотрите представленную схему и выполните предложенные задания.

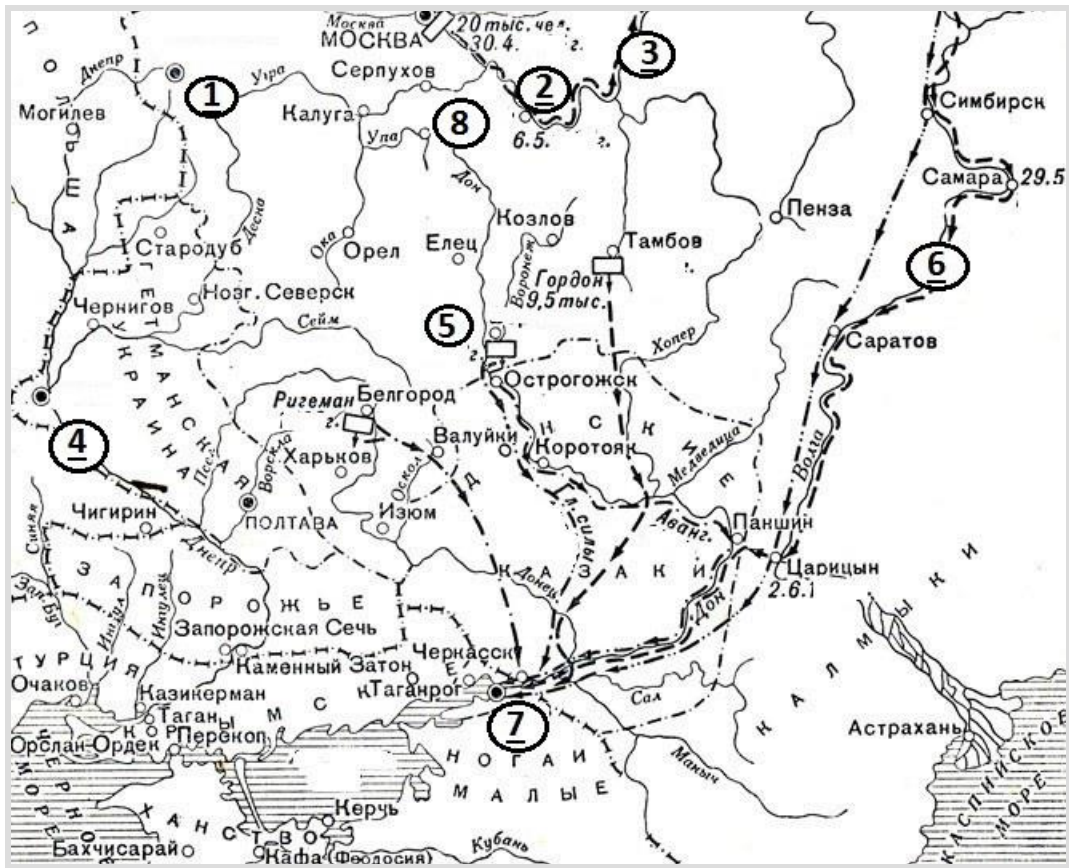


13-19. Заполните пропуски в предложениях.

Внимание! Список ответов избыточен.

13. Военная кампания, обозначенная на схеме стрелками, получила название «_____ походы».
14. Цифрой __ на схеме обозначена река, имевшая также названия «Итиль» и «Ра».
15. Цифрой __ на схеме обозначен город, считающийся родиной русского флота.
16. Цифрой __ на схеме обозначен город, присоединённый к Московскому государству в 1521 году.
17. Цифрой __ на схеме обозначен город, захваченный и удерживаемый казаками в течение 5 лет.
18. Цифрой __ на схеме обозначен город, крепость в котором была выполнена по проекту Ф. Коня.
19. Цифрой __ на схеме обозначен город, вошедший в состав России по условиям Вечного мира.

20-26. Верны ли следующие утверждения? Если утверждение является верным, выберите «да», а если оно является неверным, выберите «нет».



20. На схеме обозначена столица Крымского ханства.
21. Город, обозначенный на схеме цифрой «5», был основан в XVI веке.
22. В городе, обозначенном на схеме цифрой «4», была построена первая на Руси каменная церковь.
23. Город, обозначенный на схеме цифрой «2», получил своё современное название в честь города, уничтоженного в ходе Батыева нашествия в 1237 году.
24. Рядом с городом, обозначенным на схеме цифрой «1», появились первые русские мануфактуры в начале XVII века.
25. Город, обозначенный на схеме цифрой «8», находился на пути «из варяг в греки».
26. Город, обозначенный на схеме цифрой «7», окончательно вошёл в состав России в период правления монарха, руководившего военными действиями, обозначенными на схеме.

27-32. Перед вами изображения, посвящённые различным событиям в истории России. Укажите годы, когда произошли эти события.

Внимание! Запишите годы четырьмя цифрами БЕЗ букв, пробелов и знаков препинания.

Пригласительный школьный этап Всероссийской олимпиады школьников.
История. 2020 г. 8 класс



А)



Б)



В)



Г)



Д)



Е)

33-36. Прочитайте отрывок из документа и выполните задания.

«И сказал князь великий: “Сосчитайте, братья, скольких воевод нет, скольких служилых людей”. Говорит боярин московский, именем Михаил Александрович, а был он в полку у Микулы у Васильевича, счётчик был гораздый: “Нет у нас, государь, сорока бояр московских, да двенадцати князей белозерских, да тринадцати бояр – посадников новгородских, да пятидесяти бояр Новгорода Нижнего, да сорока бояр серпуховских, да пятидесяти бояр суздальских, да сорока бояр муромских, да двадцати бояр дмитровских, да семидесяти бояр можайских, а младшим дружинникам и счёта нет; но только знаем: погубло у нас дружины всей двести пятьдесят тысяч и три тысячи, а осталось у нас дружины пятьдесят тысяч”. И сказал князь великий: “Слава тебе, высший Творец, царь небесный, милостивый Спас, что помиловал нас, грешных, не отдал в руки врагов наших, поганых сыродцев. А вам, братья, князья, и бояре, и воеводы, и младшая дружина, русские сыны, суждено место между Доном и Непрядвой. Положили вы головы свои за землю Русскую, за веру христианскую. Простите меня, братья, и благословите в сей жизни и в будущей!”»

33. Назовите событие, результаты которого описаны в отрывке.

Внимание! Ответы с орфографическими ошибками не засчитываются. Запишите в поле ответа ДВА СЛОВА.

34. Укажите год, когда произошло это событие.

Запишите в поле ответа ЧЕТЫРЕ ЦИФРЫ БЕЗ букв, пробелов и знаков препинания.

35. Выберите из списка имя, отчество и прозвище великого князя, о котором идёт речь в отрывке.

Выберите из списка:

Александр Ярославич Невский
Василий Дмитриевич Первый
Дмитрий Юрьевич Шемяка
Дмитрий Иванович Донской
Иван Васильевич Грозный

36. Летописец перечисляет земли и княжества, представители которых погибли на поле боя. Из названного им перечня укажите четыре города (кроме Москвы), которые в период описываемых событий входили в состав Московского княжества.

Выберите из списка:

Белоозеро
Великий Новгород
Дмитров
Можайск
Муром
Нижний Новгород
Серпухов
Суздаль


37. Летописец перечисляет земли и княжества, представители которых погибли на поле боя. Из названного им перечня выберите город, форма правления в котором отличалась от остальных.

Выберите из списка:

Белоозеро
Великий Новгород
Дмитров
Можайск
Муром
Нижний Новгород
Серпухов
Суздаль

38. Перед вами плакаты, посвящённые событиям Великой Отечественной войны. Расположите плакаты в порядке их появления, от раннего (1) к позднему (8).

А



Б




В



Г




Д




Е



Ж



З



Итого 59 баллов.